

## 総合科目

問1 一郎と裕子が話し合っています。これを読んで、下の設問(a)～(d)に答えなさい。

裕子：きのうのテレビ見た？人工衛星から見た地球、とてもきれいだっわ。

一郎：「かけがえのない地球」をいつまでも大切にしたいね。でも、今、(1)地球は病気にかかっている状態だ。

裕子：その病気をなおすために、(2)国際的な会議が開かれているのでしょ？

一郎：日本には、(3)高度成長期の経験があるから、それを発展途上国に積極的に伝えてほしいね。

裕子：ええ。それに(4)私たち自身の生活スタイルを見直していくことも必要ね。

(a) 下線部(1)の意味として最も適切なものを、次の～のうちから一つ選びなさい。

1

石油や石炭など化石燃料の枯渇

二酸化炭素の増大による地球温暖化

南北問題など所得格差の拡大

宗教紛争や民族紛争の激化

(b) 下線部(2)に該当する会議として正しいものを、次の～のうちから一つ選びなさい。

2

1985年にアメリカ、ニューヨークのプラザホテルで開かれた会議

1991年にオランダ、マーストリヒトで開かれた会議

1992年にブラジル、リオデジャネイロで開かれた会議

1997年にアメリカ、デンバーで開かれた会議

(c) 下線部(3)についての文として最も適切なものを、次の ~ のうちから一つ選びなさい。

3

リゾート開発政策の推進により、森林の伐採が進んで水源が汚染されたが、これを解決した経験

足尾銅山の鉱毒問題など、輸出産業としての鉱山業で公害問題が頻発したが、これを解決した経験

経済成長を優先した結果、四大公害など深刻な公害を発生させたが、公害対策を進めてこれを克服した経験

先行的に公害防止装置の投資に努めた結果、高度経済成長と公害防止を両立することに成功した経験

(d) 下線部(4)についての文として最も適切なものを、次の ~ のうちから一つ選びなさい。

4

石炭へのエネルギー依存をやめ、電力に切り換えていくこと。

自国の農産物を愛用し、食糧自給率を高めていくこと。

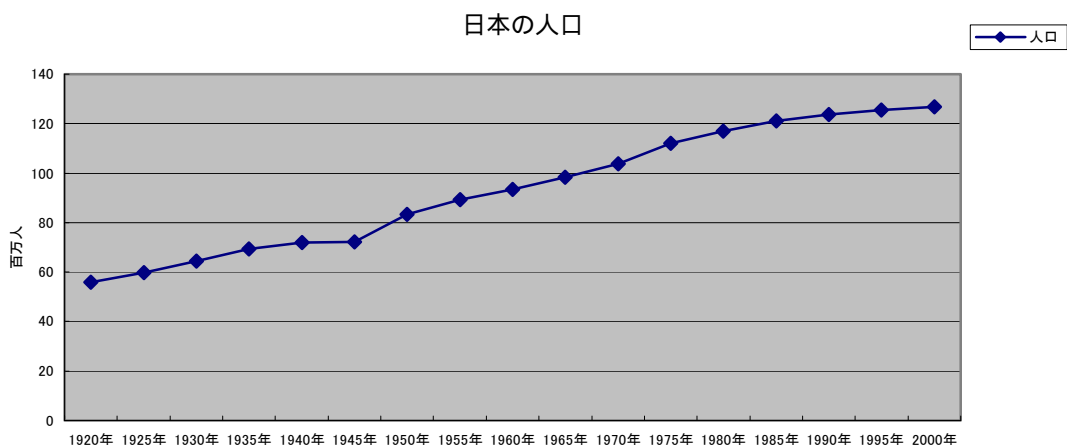
浪費をやめ、将来に備えて貯蓄率を高めること。

使い捨ての消費を見直し、資源の再利用に努めること。

問2 下の設問(a), (b)に答えなさい。

(a) 次の図を参考にして、日本の人口の変化についての説明として正しい文を、下の ~ のうちから一つ選びなさい。

5



1920年から約60年間の大半の時期、多産多死のため人口は増加しなかった。  
 1940年前後の約10年は、第1次世界大戦の影響で人口があまり増えていない。  
 1980年頃から、多産少死により人口増加が著しい。  
 1940年前後の約10年は、第2次世界大戦の影響で人口があまり増えていない。

(b) 次の表を参考にして、日本の産業別人口構成についての説明として正しい文を、下の  
 ~ のうちから一つ選びなさい。 6

日本の産業別人口構成（％）

年	1920	1930	1940	1950	1960	1970	1980	1990	2000
第1次産業	53.8	49.7	44.3	48.5	32.7	19.4	10.9	7.1	5.1
第2次産業	20.5	20.3	26.0	21.8	29.0	33.9	33.6	33.3	30.9
第3次産業	23.7	29.8	29.0	29.6	38.3	46.7	55.4	59.0	64.0

農業は、第二次世界大戦後の一時期を除いて、1920年から2000年まで減少し続けている。

製造業は、工業の発展とともに、1920年から今日まで増加し続けている。

卸・小売、サービスなどの第3次産業は、1920年から2000年まで増え続けている。

1940年から1950年の時期は、関東大震災によって工業が打撃を受けたために、第2次産業の割合が下がっている。

問3 人種・民族・言語などの壁をこえて広がる世界宗教の組み合わせとして正しいものを、次の ~ のうちから一つ選びなさい。 7

	キリスト教・イスラム教・ヒンドゥー教
	キリスト教・イスラム教・仏教
	イスラム教・仏教・ユダヤ教
	イスラム教・ユダヤ教・儒教

問4 55年体制（1955年～1993年）と呼ばれた時期における日本の政党政治の特徴として正しいものを、次の ~ のうちから一つ選びなさい。 8

自由民主党と日本社会党が交互に政権を担当した。

日本社会党が、長期にわたり政権を担当した。

自由民主党が、長期にわたり政権を担当した。

自由民主党以外の政党が連合して政権を担当した。

問5 日本国憲法に定められた国民の三大義務として正しいものを，次の ~ のうちから一つ選びなさい。

9

	兵役の義務・納税の義務・投票の義務
	勤労の義務・納税の義務・投票の義務
	勤労の義務・納税の義務・子どもに教育を受けさせる義務
	兵役の義務・納税の義務・子どもに教育を受けさせる義務

問6 世界の多くの国は議院内閣制 (parliamentary cabinet system) を採用している。それにあてはまる国の組み合わせとして正しいものを，次の ~ のうちから一つ選びなさい。

10

	アメリカ合衆国・イギリス・ドイツ
	ロシア・日本・フランス
	カナダ・メキシコ・フランス
	イギリス・日本・カナダ

問7 国連の PKO (Peace-Keeping Operation, 平和維持活動) についての文として最も適切なものを，次の ~ のうちから一つ選びなさい。

11

PKO は，国連軍に代わる暫定的な平和維持活動である。

PKO は，国連憲章に違反した国への制裁活動として発動される。

PKO の目的の中には，核兵器の廃絶や軍縮が含まれる。

国連決議に基づく PKO は，当事国の同意なしに紛争に介入できる。

問8 NGO (Non-Governmental Organization, 非政府組織) を表す文として最も適切なものを，次の ~ のうちから一つ選びなさい。

12

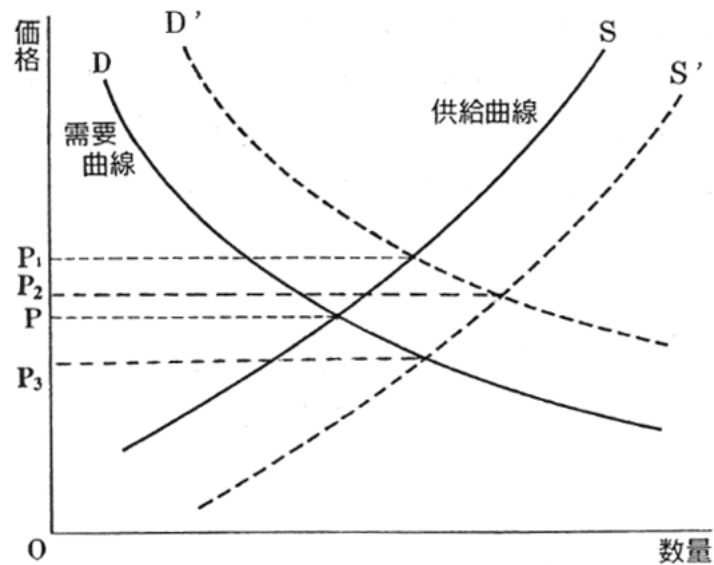
環境保護や軍縮に集中する組織を特に NGO と呼ぶ。

NGO は政府からの資金援助を一切受けていない。

NGO の活動は開発援助，人権，環境保護等多くの分野にわたっている。

東西冷戦が終わってから，NGO の活動の意義は減少した。

問9 次の図は、完全競争市場で需要曲線Dと供給曲線Sによって価格Pが決定することを示す。また、条件の変化によって需要曲線DがD'に移動し、あるいは供給曲線SがS'に移動すると価格が変化することを示す。この図を参考にして、下の設問(a)、(b)に答えなさい。



(a) 市場価格が決定している状態から、需要だけが増え供給が変わらなるとすると、新しい市場価格はどこで均衡するか。次の ~ のうちから一つ選びなさい。 **13**

点 P      点 P<sub>1</sub>      点 P<sub>2</sub>      点 P<sub>3</sub>

(b) 市場価格が決定されている状態から、技術革新によりコストが下がった結果、新しい市場価格はどこで均衡するか。次の ~ のうちから一つ選びなさい。 **14**

点 P      点 P<sub>1</sub>      点 P<sub>2</sub>      点 P<sub>3</sub>

問10 世界貿易について、下の設問 (a), (b) に答えなさい。

- (a) 次の文の [ 1 ] ~ [ 3 ] にあてはまる語の組み合わせとして正しいものを、下の ~ のうちから一つ選びなさい。 [15]

国際経済秩序の破綻が第二次世界大戦の一因になったことの反省から、様々な国の間で起こる貿易に関する摩擦を解消し貿易を促進するために1948年に結ばれた協定が [ 1 ] である。[ 1 ] は、[ 2 ] 貿易、無差別最恵国待遇、多角主義の三原則に立つ。1995年になるとこれを発展的に解消し、[ 3 ] がつくられた。

	[ 1 ]	[ 2 ]	[ 3 ]
	G A T T	自由	W T O
	W T O	保護	G A T T
	G A T T	保護	W T O
	W T O	自由	G A T T

- (b) 次の文の [ 1 ] ~ [ 3 ] にあてはまる語の組み合わせとして正しいものを、下の ~ のうちから一つ選びなさい。 [16]

1944年のブレトン・ウッズ協定にもとづいて1947年に設立された国際通貨制度が [ 1 ] であり、アメリカドルを基軸通貨とする。[ 1 ] は、外国為替の安定を図るため、[ 2 ] 相場を基本としてきたが、1973年頃から各国は次々と [ 3 ] 相場へと移行した。

	[ 1 ]	[ 2 ]	[ 3 ]
	O E C D	変動	固定
	I M F	固定	変動
	O E C D	固定	変動
	I M F	変動	固定

問 11 1990 年代における各国の経済成長率には、大きな差異が見られる。次の表は 1997 年の世界各国の経済成長率と国民総生産 (GNP) を示している。表中の  ~  にあてはまる国名の組み合わせとして正しいものを、下の ~ のうちから一つ選びなさい。

各国の国民総生産 (GNP) と 1 人あたり GNP (1997 年)

	GNP (百万ドル)	1 人あたり GNP (ドル)	経済成長率 (%)
アメリカ	7,782,092	29,080	3.8
<input type="text" value="A"/>	4,812,103	38,160	- 0.4
ドイツ	2,320,985	28,280	2.0
<input type="text" value="B"/>	1,055,372	860	8.8
<input type="text" value="C"/>	485,209	10,550	5.5

<input type="text" value="A"/>	中国	日本	日本	韓国
<input type="text" value="B"/>	韓国	韓国	中国	日本
<input type="text" value="C"/>	日本	中国	韓国	中国

問 12 不況期に、景気刺激策としてとられる財政政策と金融政策の組み合わせとして最も適切なものを、次の ~ のうちから一つ選びなさい。

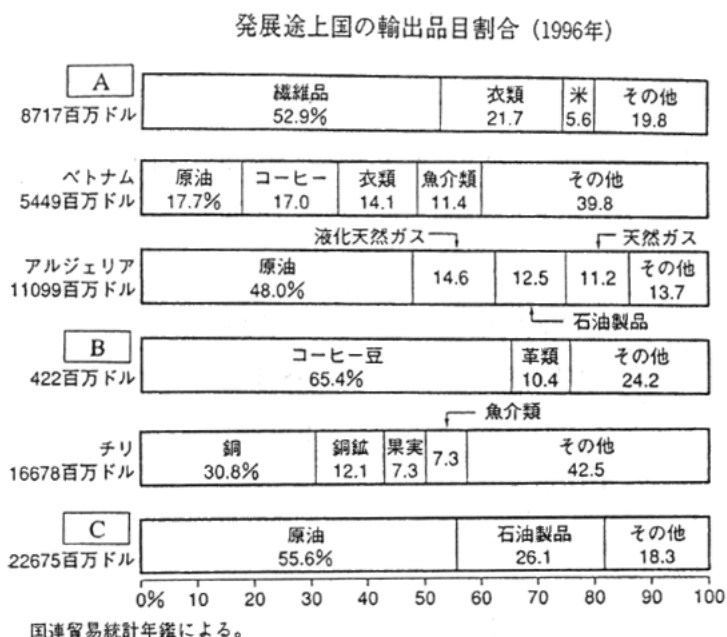
政府は減税をおこない、中央銀行は通貨流通量を減らす。

政府は減税をおこない、中央銀行は預金準備率を引き下げる。

政府は増税をおこない、中央銀行は通貨流通量を増やす。

政府は公開市場で買いオペレーションをおこない、中央銀行は預金準備率を引き上げる。

問13 次のグラフは、1996年頃における発展途上国の輸出品目割合を示したものである。  
このグラフを参考にして、下の設問 (a), (b) に答えなさい。



(a) グラフの A ~ C にあてはまる国名の組み合わせとして正しいものを、次の ~ のうちから一つ選びなさい。 19

A	ベネズエラ	エチオピア	パキスタン	パキスタン
B	パキスタン	ベネズエラ	エチオピア	ベネズエラ
C	エチオピア	パキスタン	ベネズエラ	エチオピア

(b) 発展途上国の産業と貿易に関する文として正しいものを、次の ~ のうちから一つ選びなさい。 20

かつて植民地であった発展途上国の多くは、一次産品に特化したモノカルチャー経済を余儀なくされている。

一次産品の価格は工業製品よりも価格が安定しているため、多くの発展途上国がモノカルチャー経済をおこなっている。

自由貿易を基調とする IMF - GATT体制は、先進工業国よりも発展途上国に、より多くの恩恵をもたらした。

WTOが設けられたことにより、いわゆる「南北問題」は解消した。



**問14** 次の文(a)～(c)は、先進工業国と発展途上国の国際経済協力体制を支える国際機関を説明したものである。(a)～(c)のそれぞれの国際機関略称名として正しいものを、下の～のうちからそれぞれ一つずつ選びなさい。

- (a) 第二次世界大戦後すぐに設立され、戦災国の復興と途上国の開発のための長期資金を融資する。 21
- (b) 先進工業諸国が中心となって経済成長の維持と貿易拡大を目的とする。 22
- (c) 南北問題を検討し、おもに途上国側から特惠貿易・援助改善の要求を先進工業国へおこなう。 23

G A T T	I B R D	I M F
O E C D	U N C T A D	U N H C R

**問15** 株式会社について書かれた文として正しいものを、次の～のうちから一つ選びなさい。 24

株式会社の従業員（employee）は、すべてその会社の株主（share holder）である。

株式会社の従業員は、自分が勤めている会社の株式を保有してはならない。

今日の株式会社では、株式の所有者（proprietor）と、会社の経営者（manager）は、別の人であることが多い。

株式の所有者は会社の経営者の選出に関わるできない。

**問16** 一般に、インフレーションを抑止するために、中央銀行が公定歩合（official rate, bank rate）と国債（national debt）についておこなう政策はどれか。政策の組み合わせとして最も適切なものを、次の～のうちから一つ選びなさい。 25

	公定歩合	国債
	引き上げる	市中から買い上げる
	引き下げる	市中から買い上げる
	引き下げる	市中に売却する
	引き上げる	市中に売却する

問17 次の表についての説明として正しいものを，下の ~ のうちから一つ選びなさい。

26

国名	消費者物価（総合）(1990年 = 100)		
	1996年	1997年	対前年上昇率
日本	107.2	109.0	1.7
インド	179.2	192.1	7.2
イギリス	121.1	124.9	3.1
イタリア	132.8	135.5	2.0
エジプト	204.7	214.1	4.6
アメリカ合衆国	120.0	122.9	2.3
ブラジル*	47512	50803	6.9

\*ブラジルは1990年 = 1

日本では，1990年には一定の金額で100個のモノが買えたが，1997年にはおよそ109個を買えるようになった。

1997年のイタリアの消費者物価上昇率は，同年のイギリスの上昇率よりも大きい。1997年に，アメリカの旅行者がエジプトに行くと，1ドル分の買い物をすると，アメリカで買うよりも必ず高くつく。

この表で，1997年の物価指数が最も高いのはブラジルであるが，同年の対前年上昇率が最も大きいのはインドである。

問18 会社の金融について書かれた次の文の [1]，[2] にあてはまる語句の組み合わせとして正しいものを，下の ~ のうちから一つ選びなさい。

27

会社の金融は，社債や株式などを発行して資金を調達する [1] と，銀行など金融機関から資金を借り入れる [2] とに大別される。

	[1]	[2]
	間接金融	信用取引
	信用取引	間接金融
	直接金融	間接金融
	直接金融	信用取引

問19 規制緩和 (deregulation) に相当するものとして正しいものを、次の ~ のうちから一つ選びなさい。 28

- 鉄道輸送を円滑にすすめるために、国内の線路の規格を統一した。
- 食品の安全を確保するために、賞味期限の表示を義務づけた。
- 競争を促すために、銀行以外の会社も銀行業務をおこなえることにした。
- 消費者の利益を考えて、政府が電力の価格を引き下げた。

問20 次の文は日本のある地方について述べたものである。あてはまるものを、下の ~ のうちから一つ選びなさい。 29

3,000m内外の山々がそびえ、たくさんの高原や湖・温泉があり、東京や名古屋から近い  
ため、夏は登山や避暑に、冬はスキーにおとずれる人が多い。

中央高地      九州地方      北海道地方      中国地方

問21 日本の石炭について述べた文として正しいものを、次の ~ のうちから一つ選びなさい。 30

- 生産量は多く、輸出が増大している。
- 生産量は少なく、輸入が増大している。
- 九州と北海道には有力な炭田があり、現在でもさかんに生産されている。
- 日本の石炭は製鉄に適し、生産量が増加している。

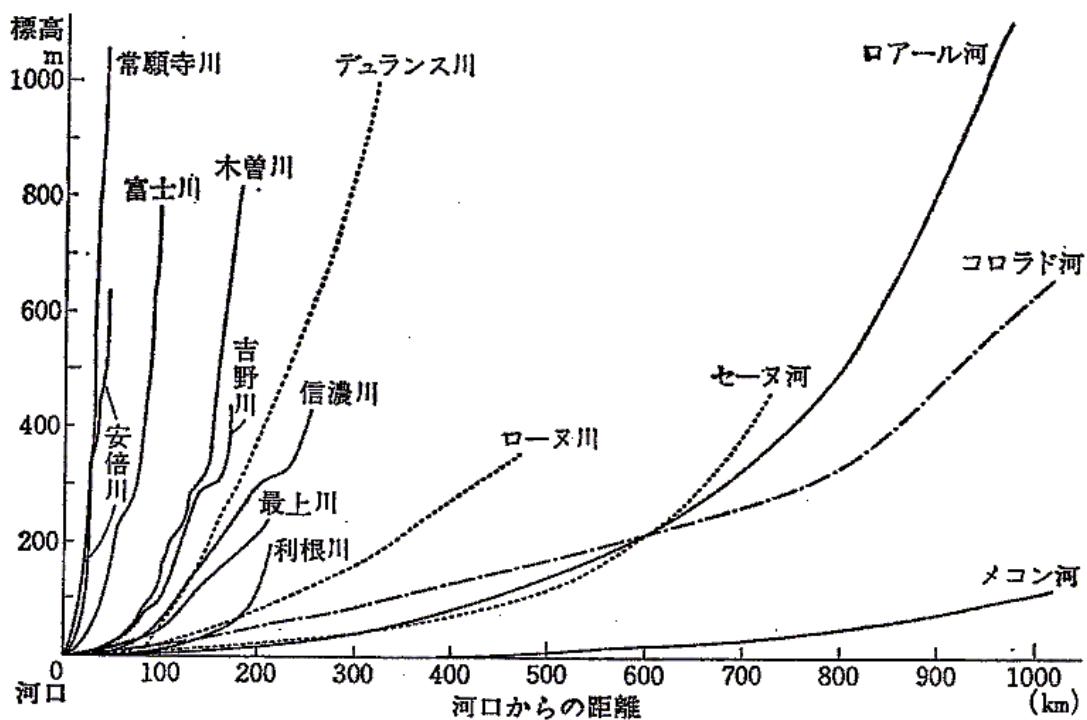
問22 日本の山岳では、標高が 100m 変化すると平均気温は約 0.6 度変化する。日本の最高峰富士山(3,776m)山頂の平均気温を近くの海面の平均気温と比べた場合、気温の差について最も適切なものを、次の ~ のうちから一つ選びなさい。 31

- 富士山山頂のほうが約 23 度高い。
- 富士山山頂のほうが約 2.3 度高い。
- 海面のほうが約 2.3 度高い。
- 海面のほうが約 23 度高い。

問23 日本国内での気温の差が大きい理由として最も適切なものを、次の ~ のうちから一つ選びなさい。 32

- 夏には日本の南部だけが強力な高気圧に覆われる。
- 常に北から季節風が吹いている。
- 6, 7月の梅雨と9, 10月の台風によって大量の雨が降る。
- 南北に長い国であり、起伏の大きな山地が多い。

問24 次の図からわかる日本の河川の一般的な特徴について最も適切なものを、下の ~ のうちから一つ選びなさい。 33



出典：阪口豊編『日本の自然』(岩波書店)

- 日本の河川は勾配(gradient)が急(steepest)で長い。
- 日本の河川は短く、勾配が急である。
- 勾配が急であるため、洪水は起きない。
- 日本の河川では河口の近くが最も勾配が急である。

**問25** アメリカ合衆国は、1787年、世界最初の近代的な成文憲法を制定した。この成文憲法の特徴として正しいものを、次の ~ のうちから一つ選びなさい。 34

- インディアンの権利を尊重
- 黒人奴隷の人権を回復
- 国家主権の権限を強化
- 三権分立の制度を確立

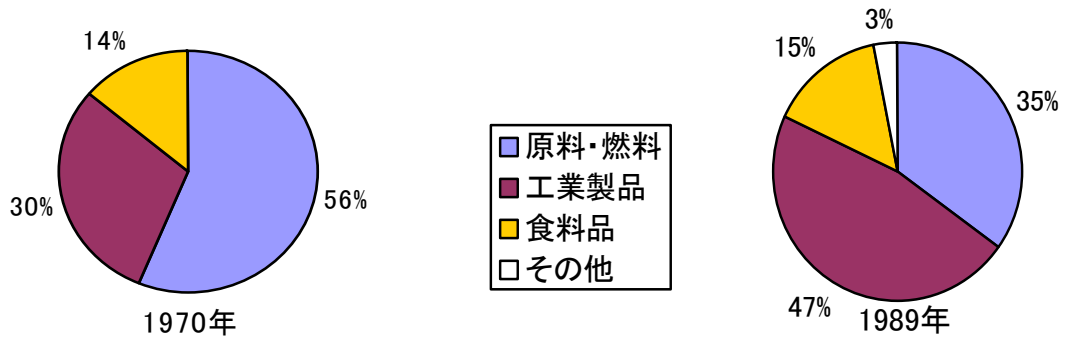
**問26** 19世紀中期のアジアの様子として正しいものを、次の ~ のうちから一つ選びなさい。 35

- イギリスがインドを支配し、次にアフガニスタンを征服し、植民地にした。
- イギリスが中国との戦争に勝利し、香港を獲得して植民地化を進めた。
- アメリカ合衆国がハワイを領土にし、太平洋地域に進出してきた。
- フランスがマレー半島などを植民地にした。

**問27** 第一次世界大戦についての説明として正しいものを、次の ~ のうちから一つ選びなさい。 36

- アメリカ合衆国は当初、中立の立場をとったが、戦争の末期には参戦した。
- 植民地の再分割を求める帝国主義戦争であったから、アジアやアフリカの植民地の人々は戦争に協力しなかった。
- 遠いヨーロッパが戦場だったので、オーストラリアは参戦しなかった。
- 資本家の利益のための帝国主義であったから、参戦国の労働組合や社会主義政党は戦争に反対し、政府に協力しなかった。

問28 次の図は二つの年における日本の輸入の割合をあらわしている。その関係の特徴として正しいものを、下の ~ のうちから一つ選びなさい。 37



- 輸入割合に新しい変化が生起していない。
- 原料・燃料の輸入が大幅に増大している。
- 工業製品の輸入が大幅に増大している。
- 食料品が大幅に減少している。